

Název školy: ZŠ A MŠ ÚDOLÍ DESNÉ, DRUŽSTEVNÍ 125

Název projektu: Ve svazkové škole aktivně - interaktivně

Číslo projektu: CZ.1.07/1.4.00/21.3465

Autor: Iva Kvapilíková

Tematický okruh: Léto

Název: VY_12_INOVACE_29_ČJS

Vytvořeno: květen 2013



INVESTICE DO ROZVOJE VZDĚLÁVÁNÍ

Anotace:


V této prezentaci se žáci seznamují s pojmem přírodní společenstvo a na praktických úkolech třídí organismy podle toho, ke kterému společenstvu patří nebo nepatří.

Zdroje obrázků:

- a) Galerie obrázků eBeam Scrapbook
- b) Fotoarchiv autorky



Přírodní společenstva



Přírodním společenstvem

rozumíme rostliny, živočichy, houby a mikroorganismy žijící na jednom místě.

Vytvořila je příroda nebo vznikla uměle - zásahem člověka.

Přírodní společenstva vzniklá bez zásahu člověka jsou například:

- louka
- les
- řeka
- potok
- horská stráž






Mezi uměle vytvořená společenstva patří například:

- skleník
- zahrada
- akvárium
- sad
- pole
- statek

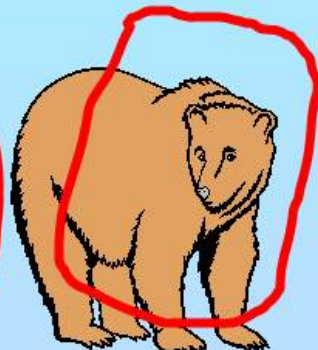
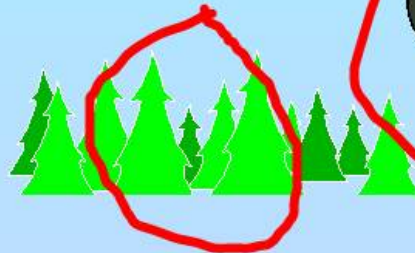

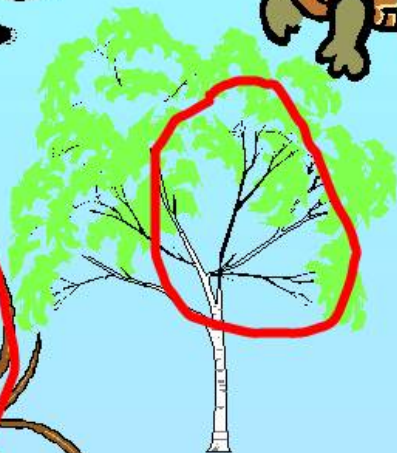
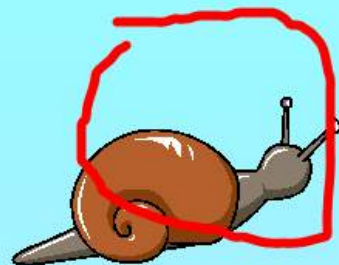



Úkoly k procvičení učiva:



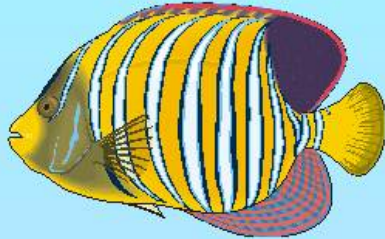



Který z obrázků patří do přírodního společenstva
LES ? Zakroužkuj ho:








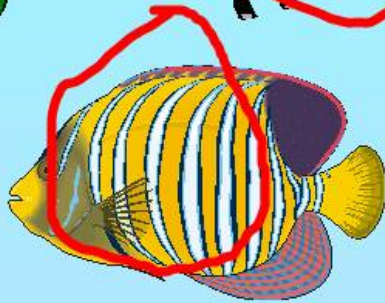

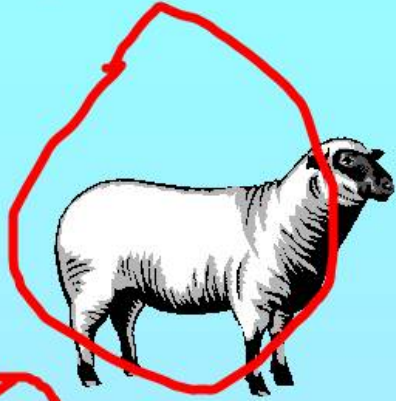
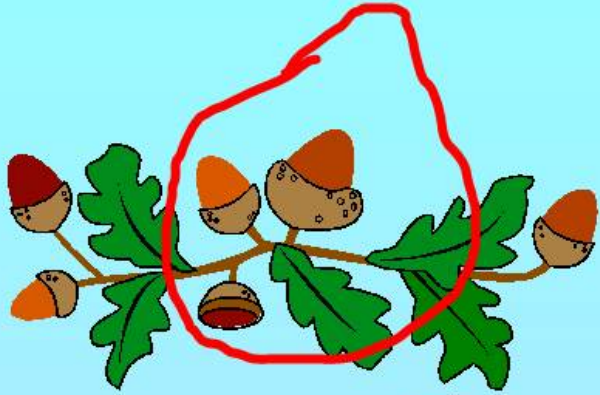
Správné řešení:



Který obrázek nepatří do společenstva
RYBNÍK? Zakroužkuj:



Správné řešení:



**Připoj čarou obrázky k názvu společenstva,
do kterého patří:**


farma



prales



**okolí lidských
obydlí**



Správné řešení:

